



**Городская олимпиада младших
школьников и обучающихся 5-6-х классов
«Тулячок» 2025-2026 учебного года по географии
Муниципальный этап**

5 класс

Шифр участника

Время выполнения: 45 минут

Количество баллов: 100

ЧАСТЬ 1.

1. Какой учёный дал название науке география и вычислил размеры Земли?

- | | |
|---------------|------------|
| А/ Аристотель | В/ Пифагор |
| Б/ Эратосфен | Г/ Галилей |

2. Ночь длиннее дня в южном полушарии бывает:

- | | |
|--------------|--------------|
| А/ В декабре | В/ В июне |
| Б/ В октябре | Г/ В феврале |

3. Какие горы самые высокие на Земле?

- | | |
|----------|------------|
| А/ Альпы | В/ Гималаи |
| Б/ Анды | Г/ Кавказ |

4. Какая река протекает на территории Тульской области?

- | | |
|----------|------------------|
| А/ Волга | В/ Нева |
| Б/ Обь | Г/ Красивая Меча |

5. Выберите верное высказывание:

- А) Земля является самой большой планетой Солнечной системы.
- Б) Земля совершает полный оборот вокруг Солнца за 365 суток.
- В) Земля совершает оборот вокруг своей оси примерно за 24 часа.
- Г) Земля находится между Марсом и Юпитером.

6. Если стать спиной на запад, какая часть света будет справа?

- | | |
|----------|-----------|
| А/ Запад | В/ Восток |
| Б/ Юг | Г/ Север |

7. Зелёным цветом на физической карте изображаются:

- | | |
|------------|---------|
| А/ Равнины | В/ Горы |
| Б/ Пустыни | Г/ Леса |

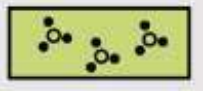

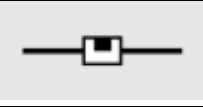

8. Какое из небесных тел получило название от слова, переводящегося на русский язык как «волосатый»:

- | | |
|------------|-------------|
| А/ Звезда | В/ Метеорит |
| Б/ Планета | Г/ Комета |

9. Какой путешественник открыл пролив между Азией и Америкой?

- | | |
|---------------|--------------|
| А/ А. Никитин | В/ С. Дежнёв |
| Б/ М. Лазарев | Г/ В. Беринг |

10. Установите соответствие между условным знаком и тем, что он обозначает на топографической карте:

1.		А.	Овраг
2.		Б.	Фруктовый сад
3.		В.	Кустарники
4.		Г.	Железная дорога, станция

1.	2.	3.	4.

11. Установите соответствие между природной зоной и её обитателем:

1.	Тундра	А.	Тушканчик
2.	Пустыня	Б.	Песец
3.	Тайга	В.	Лев
4.	Саванна	Г.	Медведь

1.	2.	3.	4.

12. Выберите правильные утверждения:

- А) По мнению большинства учёных возраст нашей планеты составляет 4,5-4,6 млрд. лет.
- Б) Географическая широта бывает северная и южная.
- В) Гидрология - это наука, изучающая все виды природных вод географической оболочки.
- Г) Пингвины и белые медведи никогда не встречаются друг с другом в дикой природе.

ЧАСТЬ 2.


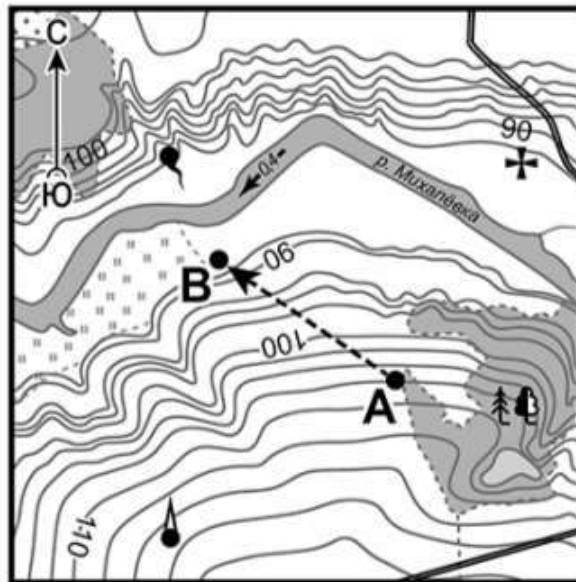
2.1. Установите соответствие между утверждением и правильным ответом, результаты запишите в таблицу.

	<i>Утверждение</i>		<i>Ответ</i>
А.	Третий по площади материк Земли	1	Атлантический океан
Б.	Самый большой по площади остров Земли	2	Байкал
В.	Второй по площади океан Земли	3	Тихий океан
Г.	Самое глубокое озеро мира	4	Гренландия
Д.	Материк, который был открыт позже всех	5	Южная Америка
Е.	Самое большое по площади в мире озеро	6	Берингово море
Ж.	Море, которое омывает берега России	7	Мадагаскар
З.	Океан, которому дал название Фернан Магеллан	8	Северная Америка
И.	Самый влажный материк	9	Каспийское море

К.	Название этого острова носит известный мультфильм, этот остров является родиной лемурув	10	Антарктида
----	---	----	------------

А.	Б.	В.	Г.	Д.	Е.	Ж.	З.	И.	К.

ЧАСТЬ 3.



Масштаб: 1:10 000

в 1 см 100 м

Горизонталы проведены через 2,5 метра

3.1. Ребята решили отдохнуть у реки. Определите вверх или вниз лежит их путь из точки А в точку В. _____

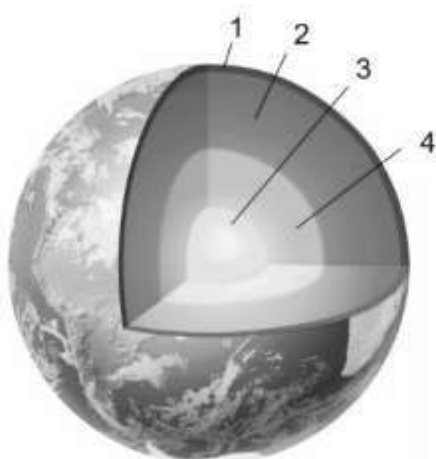
3.2. Какой путь из точки А к берегу реки по направлению А-В необходимо преодолеть ребятам?

3.3. На какой высоте расположен родник? _____

3.4. В каком направлении от родника расположена башня? _____

3.5. Какие типы растительности вы обнаружили на карте? _____

3.6. Определите, что обозначено на схеме под цифрами:



1. _____

2. _____

3. _____

4. _____