



Городская олимпиада младших школьников и обучающихся 5-6-х классов «Тулячок» 2025-2026 учебного года по труду «Культура дома»

Муниципальный этап

5 класс

Шифр участника

Время выполнения: 45 минут

Количество баллов: 100 баллов

Задание 1. Строго определённая последовательность действий, способов деятельности, правил, выполнение которых создает возможность решения поставленной задачи называется _____ ТАМЛОИРГ (расшифруй и запиши ответ).

Задание 2. Рассмотрите фотографию. Определи, какое техническое устройство на ней изображено.



А) сушиар

В) стиральная машина

Д) микроволновая печь

Б) пылесос

Г) посудомоечная машина

Е) ткацкий станок

Задание 3. Разгадайте ребусы




Задание 4. На рисунке вы видите три детских кубика. Все они повернуты к нам одним и тем же рисунком – елочкой. Какие картинки мы увидим на кубиках А, Б, В, если посмотрим на них сверху? Развёртка кубика приведена ниже.

А

Б


В



Нарисуй ответ А



Б



В



Задание 5. Собери пословицу. Соедини части пословицы.

- | | |
|---------------------------|---------------------------|
| А - Без труда не вытащишь | 1 - а человека труд |
| Б - Была бы охота | 2 - и рыбку из пруда |
| В - Землю солнце красит | 3 - ремесло к лицу |
| Г - Всякому молодцу | 4 - заладится работа |
| Д - У ленивой пряжи | 5 - и для себя нет рубахи |
| Е - Всякая работа | 6 - а руки |
| Ж - Не игла шьет | 7 - мастера хвалит |
- А___ Б___ В___ Г___ Д___ Е___ Ж___

Задание 6. Тула славится как город мастеровых людей. На территории Тульской области известно много промыслов, ремесел и производств. Развитие их было связано с природными особенностями Тульского края. Месторождения железной руды, известняка, глины и других полезных ископаемых способствовало становлению производств.



Рассмотрите рисунок и определите, представитель какой профессии изображён.

- А) врач Б) блогер В) агроном Г) инженер Д) кузнец
Е) лесоруб Ж) строитель З) гармонист И) энергетик К) сапожник

Задание 7. Для изготовления тряпичной куклы-мотанки ученица использовала различные материалы и инструменты. Что из перечисленного ниже является материалами? Выберите все верные варианты ответа.



- А) ткань В) нитки Д) карандаш Ж) тесьма
Б) ножницы Г) линейка Е) иголка З) распарыватель

Задание 8. Установите соответствие между изображением игрушки и основным материалом из которого она изготовлена.

1	глина		А
2	солома		Б
3	древесина		В

1 _____ 2 _____ 3 _____

Задание 9. Какую часть растения используют для получения льняного волокна.

А) стебель Б) листья В) цветы Г) корень Д) почки

Задание 10. Аня решила купить на праздник 3 одинаковые Тульских пряника. Она знала, что один пряник стоит 155 рублей. Когда девочка пришла в магазин, оказалось, что цена на пряник выросла на 12 рублей. Определите, сколько рублей теперь должна потратить Аня, чтобы купить 3 пряника. Запиши решение и ответ.

_____ Ответ: _____ рублей.

Задание 11. Укажите правила, которые НЕ обязательны при создании робота:

- 1) Робот не должен вредить человеку или своим бездействием допустить, чтобы человеку был причинён вред.
- 2) Робот должен выполнять команды человека, кроме команд, которые могут нанести вред человеку.
- 3) Робот должен быть похож на человека.
- 4) Робот должен заботиться о своей безопасности, если это не нарушает безопасности человека.
- 5) Робот должен работать только от источника питания – солнечная батарея.
- 6) Все правила верные.

Задание 12. Отгадайте загадку «Что за белые крупинки

Не зерно и не снежинки,

Скисло молоко и вот

Получили мы _____


В рецепт каких блюд НЕ входит отгаданный пищевой продукт.

А) ватрушка Б) сырник В) борщ Г) гуляш

Задание 13.

Нарисуй открытку к 8 марта для своего учителя труда (технологии).

В открытке должно присутствовать указание на учебный предмет.



Желаем творческих успехов!



Городская олимпиада младших школьников и обучающихся 5-6-х классов «Тулячок»
2025-2026 учебного года по труду «Культура дома»

Муниципальный этап

6 класс




Шифр участника

Время выполнения: 45 минут

Количество баллов: 100

Задание 1.

Рассмотрите предложенные фотографии и расположите данные объекты в порядке их изобретения.

		
А	Б	В

Задание 2.

При благоустройстве парка было решено посыпать несколько тропинок песком. Длины тропинок равны 6 м 5 см, 3 м 3 дм, 175 см

Определите общую длину тропинок, которые решили посыпать песком. Ответ дайте в сантиметрах. _____ см

Задание 3.

Отметь необходимые действия при использовании сети Интернет, подходящие к фразе «Я никогда не буду...»

А	Обновлять антивирусную программу	
Б	Хранить свои пароли в тайне	
В	Открывать подозрительные сообщения	
Г	Рассказывать родителям о проблемах в сети	
Д	Переписываться с незнакомыми людьми	

Задание 4.

Этих тульских кукол делали в семье Толстых в Ясной Поляне. Это деревянные куколки, одежду для которых шила жена писателя Софья Андреевна с детьми. Им раскрашивали лица и дарили на Рождество крестьянским ребятишкам.

А) кукла матрёшка

В) куколки-скелетцы

Б) тряпичные куколки

Г) куклы марионетки

Задание 5.

Традиционный холодный суп русской кухни. При приготовлении все ингредиенты измельчают и заливают квасом, кефиром или минеральной водой.

Расшифруй название ШОКОКРА _____

Блюдо было совсем не сложное и вокруг него сложилось много пословиц и поговорок. Допиши одну из них:

«Клади картошку в _____, а любовь в дело».

Задание 6.

Из списка блюд ниже выберите те, что НЕ являются супом.

- А) паелья В) рассольник Д) рассегай Ж) курник
Б) канапе Г) уха Е) борщ З) ризотто

Задание 7.

1. Установите соответствие между продуктом и его видом.

1	ряженка	пряность	А
2	корица	орех	Б
3	фундук	рыба	В
4	горбуша	птица	Г
5	рябчик	напиток	Д

1	2	3	4	5

Задание 8.

Установите соответствие между свойствами тканей и тем, что они обозначают.

Свойства		Значение	
1	усадка	образование мягких, красивых складок	А
2	сминаемость	уменьшение размеров ткани под действием тепла и влаги	Б
3	водонепроницаемость	способность ткани не образовывать складки при сжатии	В
4	драпируемость	способность ткани сопротивляться проникновению воды	Г

1 _____ 2 _____ 3 _____ 4 _____

Задание 9.

«Человеческая деятельность по приготовлению пищи. Включает в себя комплекс технологий, оборудования и рецептов. Это совокупность способов приготовления из минералов и продуктов растительного и животного происхождения самой различной пищи, необходимой для жизни и здоровья человека»

- А) пищевое производство Б) дополненная реальность
В) кулинария Г) производство

Задание 10.

Как называется искусство художественной резки по овощам и фруктам?
Выбери на картинке это способ.



А карвинг



Б квилинг



В печворк


Задание 11.

Разгадай профессию по ребусу.



Задание 12.

При условии раздельного сбора мусора, контейнеры должны быть правильно промаркированы. Рассмотрите рисунок и напишите что должно быть написано на каждом из контейнеров.



Для чего нужно сортировать мусор? _____

Задание 13.

Составь три варианта меню для завтрака с использованием куриных яиц.
Нарисуй основное блюдо. Составь список продуктов, необходимых для приготовления завтраков.

Вариант 1	Вариант 2	Вариант 3
<hr/> <hr/> <hr/> <hr/> <hr/> <hr/> <hr/> <hr/>	<hr/> <hr/> <hr/> <hr/> <hr/> <hr/> <hr/> <hr/>	<hr/> <hr/> <hr/> <hr/> <hr/> <hr/> <hr/> <hr/>
Список продуктов	Список продуктов	Список продуктов
<hr/> <hr/> <hr/> <hr/> <hr/> <hr/>	<hr/> <hr/> <hr/> <hr/> <hr/> <hr/>	<hr/> <hr/> <hr/> <hr/> <hr/> <hr/>

Желаем творческих успехов!