



Городская олимпиада младших школьников и обучающихся 5-6-х классов «Тулячок»
2025-2026 учебного года по окружающему миру

Муниципальный этап

3 класс

Время выполнения: 45 минут
Количество баллов: 100

Шифр участника

1. Блиц - турнир

1. Животных, которые питаются другими животными, называют _____
2. Как называется начало реки? _____
3. Какие домашние животные (звери) могут пастись на деревьях? _____
4. В горячую воду положили три ложки: железную, пластмассовую и деревянную. Через 3 минуты их захотели достать. Какая из ложек будет самая горячая? _____
5. Тень от солнца падает на восток. Какое это время суток? _____
6. У какой птицы мешок под клювом? _____
7. Сколько суток длится високосный год? _____
8. Специальный костюм для работы космонавтов в безвоздушном пространстве.

9. Какая птица высиживает птенцов стоя? _____
10. У какой птицы самый длинный язык? _____


2. Какую открытку можно подобрать к стихотворению? Укажи букву.

Сегодня маленький народ
Встречает новый школьный год.

А)	Б)
В)	Г)

Ответ: _____

3. Из первых букв названий каждого предмета составь слово. Запиши это слово.



Ответ (слово): _____

К какой загадке относится полученное слово? Укажи букву.

А)

День становится короче,
То жара, то гром грохочет.
Спят яблоки и груши,
Люди их на солнце сушат,
Заготавливают впрок —
Скоро лету выйдет срок!

Б)

Кружит, кружит листопад,
Золотом покрылся сад.
С севера на юг Земли
Потянулись журавли.
Распахнулись двери школ.
Что за месяц к нам пришел?

В)

После брата Января
Будет очередь моя.
В помощь мне спешат два друга:
Снежная метель и вьюга.
Снег пушистый по земле
Гонит ветер в ...


Г)

Яростно река ревет
И разламывает лёд.
В домик свой скворец вернулся,
А в лесу медведь проснулся.
В небе жаворонка трель.
Кто же к нам пришёл?

Ответ: _____

4. Подчеркни сезонные изменения в неживой природе.

Повышение температуры воздуха, листопад, замерзание почвы, начало сокодвижения, спячка животных, отмирание растений, выпадение осадков, набухание почек, линька животных, ледостав, заморозки.

5. Ветер какого направления в метеосводках обозначен знаком  ?
Запиши букву правильного ответа.

А) юго-восточный;

Б) северо-восточный;

В) юго-западный;

Г) северо-западный;

Д) южный.

Ответ: _____

6. Запиши номера растений в порядке смены ярусов в лесу (сверху вниз)?

1 – копытень, 2 – калина, 3 – мох, 4 – осина.

Ответ: _____

7. Подчеркни правильные ответы.

1. У каких растений никогда не бывает плодов?

У берёзы, у осины, у дуба, у папоротника.

2. Какое растение относится к цветковым?

Сосна, ель, туя, шиповник.

3. Какое растение называют в народе порезник, ранник?

Ландыш, одуванчик, подорожник.


4. Из какого растения делают пшено?

Гречиха, пшеница, ячмень, просо, овёс.

5. Что получают из березы?

Нектар, дёготь, смолу, сироп.

8. Выбери лист растения, плоды которого изображены на рисунке.



Ответ: _____

9. Составь пары «полезное ископаемое – применение».

А) гранит; Б) каменный уголь; В) торф; Г) железная руда.

1) выплавка стали; 2) удобрение; 3) отопление; 4) строительство.

Ответ:

А	Б	В	Г

10. В каждом ряду найди и подчеркни лишнее слово.

1) Снежинка, дерево, птица, тарелка, микроб.

2) Гранит, глина, асфальт, песок, уголь, нефть.

3) Боярышник, орешник, жимолость, липа.

4) Гнездо, нора, курятник, берлога, муравейник.

5) Черепаха, ёж, гадюка, варан, уж.

6) Термометр, ножницы, флюгер, микроскоп.

7) Франция, Санкт-Петербург, Россия, Германия.

11. Реши экологическую задачу.

Бумага, брошенная вами в лесу, будет лежать 2 года. Консервная банка – в 15 раз дольше, а полиэтиленовый пакет – на 100 лет больше консервной банки. Сколько лет пролежит в лесу брошенный полиэтиленовый пакет?

Ответ: _____

12. Расшифруй название животных, запиши их, соедини название и рисунок.



Ответ: 1) _____,
2) _____,
3) _____,
4) _____,
5) _____.

13. Догадайся, о каком растении говорится, и запиши его название.

Это растение на разных языках называется почти одинаково. У поляков оно – «поземка», у немцев – «земляная ягода». В русском языке название этой ароматной лесной ягоды звучит очень похоже.

Ответ: _____

14. Запиши названия внутренних органов человека:



1) _____ 2) _____ 3) _____ 4) _____

15. Знаешь ли ты свой организм? Выбери и обведи букву правильного ответа.

- Какой внутренний орган называют «мотором» всего организма?
а) сердце; б) лёгкие; в) мозг.
- Извилистый лабиринт «внутренней кухни» - это
а) мозг; б) кишечник; в) печень.
- Внутренний орган, который руководит всем организмом человека.
а) желудок; б) печень; в) головной мозг.
- Орган, находящийся справа от желудка.
а) сердце; б) печень; в) кишечник.
- Без какого органа невозможно было бы видеть, слышать, ощущать запахи и вкус?
а) без кишечника; б) без головного мозга; в) без селезенки.

















16. Составь две цепи питания из указанных объектов:

ёж, ель, короед, дятел, опавшие листья, дождевой червь.


Ответ: _____

Ответ: _____

17. Расшифруй названия птиц. Ответь на вопрос.


							
А	Л	Е	С	Ь	Д	О	В
							
Я	И	Р	Т	К	Д	Г	Й

1




--	--	--	--	--

2




--	--	--	--	--	--	--	--	--	--

3



--	--	--	--	--

4



--	--	--	--	--	--	--	--

В каком пункте зашифровано название этих птиц?



А) _____



Б) _____

18. Установи соответствие. Запиши в таблицу соответствующую букву.

КЛАСС

ЖИВОТНОЕ

1) насекомые

А) пингвин

2) млекопитающие

Б) черепаха

3) рыба

В) богомол

4) пресмыкающееся

Г) землеройка

5) птицы

Д) акула

6) земноводные

Е) саламандра

Ответ:

1	2	3	4	5	6

19. Как правильно переходить проезжую часть, если не работают светофоры? Запиши букву верного ответа.



- А) В любом месте по пешеходному переходу;
- Б) За спиной и перед грудью регулировщика, убедившись, что транспорт вас пропускает;
- В) Переход запрещен.

Ответ: _____

20. В середине 19 века в Тульском крае получил распространение народный промысел – плетение кружева. Этим рукоделием занимались монахини в женском монастыре. Кружево получило своё название от имени города, в котором оно создавалось. В каком городе Тульского края зародилось это искусство? Обведи правильный ответ.

- А) Венёв; Б) Богородицк;
- В) Белёв; Г) Одоев.





Городская олимпиада младших школьников и
обучающихся 5-6-х классов «Тулячок»
2025-2026 учебного года по окружающему миру

Муниципальный этап

4 класс

Шифр участника

Время выполнения: 45 минут

Количество баллов: 100

1. Назовите самое большое животное на планете

2. Условная линия, проведенная на поверхности Земли от одного полюса до другого _____

3. Чем дышат рыбы? _____

4. Какой материк является единственным, расположенным во всех четырёх полушариях Земли? _____

5. Какой орган человеческого организма производит кровь?

6. Где расположены лёгкие человека?

7. Назовите главную артерию, несущую кровь от сердца ко всему телу.

8. Ответьте, верны ли утверждения: ДА (+) или НЕТ (-), заполни таблицу:

а) Верно ли утверждение, что Земля вращается вокруг Солнца против часовой стрелки, если смотреть со стороны Северного полюса?

б) Правда ли, что горы образовались раньше океанов?

в) Действительно ли вулканы встречаются только на суше?

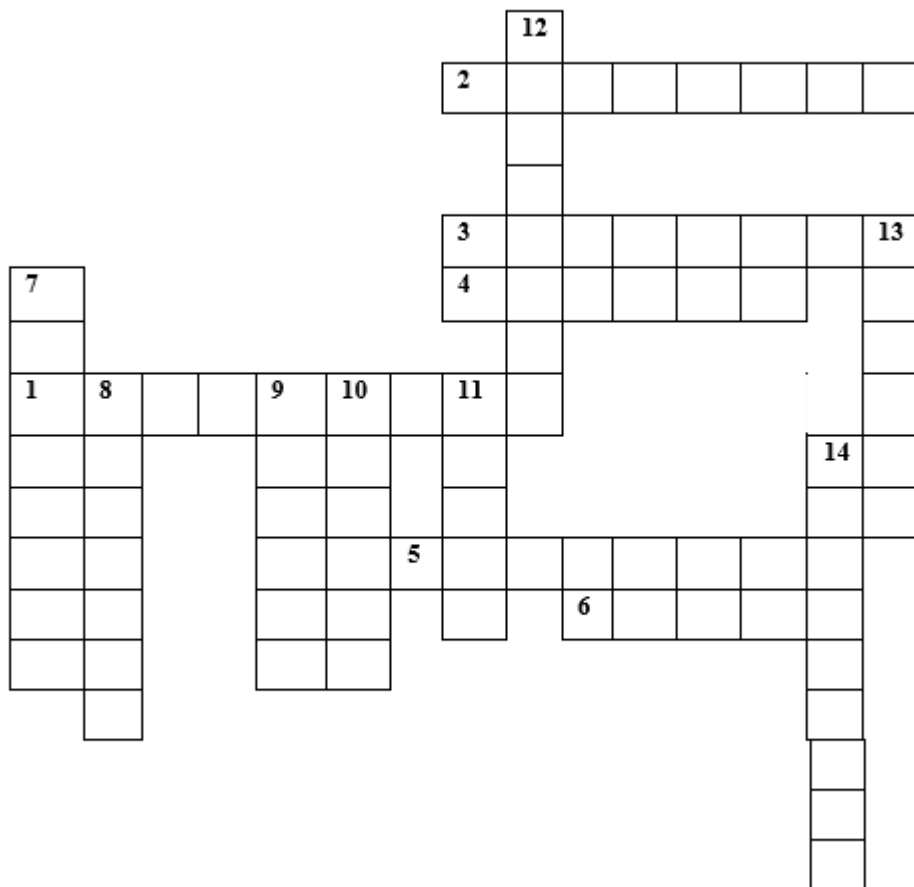
г) Может ли ветер изменить форму гор и холмов?

д) Растут ли цветы в пустыне?

е) Экологические катастрофы влияют только на окружающую среду, но никак не сказываются на здоровье человека?

а	б	в	г	д	е

9. Впишите названия стран мира.



По горизонтали:

1. Государство, занимающее целый континент.
2. Государство, известное кофе и кофейными плантациями.
3. Государство, где находится Кельнский собор.
4. Страна, известная своими пирамидами и фараонами.
5. Страна, где находится знаменитый водопад Виктория.
6. Страна, знаменита Великими китайскими стенами.

По вертикали:

7. Страна, подарившая миру футбол и карнавалы.
8. Самое маленькое государство в мире.
9. Страна, имеющая самую большую площадь в мире.
10. Островное государство, родина футбола.
11. Родина знаменитого Тадж-Махала.
12. Страна, находящаяся на полуострове Скандинавия.
13. Страна, производящая автомобили марки Toyota и Nissan.
14. Страна, знаменитая производством сыра и часов.

10. Какие животные способны менять окраску кожи в зависимости от окружающей среды и почему? Приведите один пример.

11. Прочитайте описания. Распознай растения и запиши их названия.

а) Небольшое деревце или куст с мелкими колючками, плоды которого ярко-красные ягоды, кислые на вкус, содержат много витамина С.

б) Дерево с белой гладкой корой, сердцевидные листья, широко применяется в строительстве и изготовлении бумаги.

в) Сорное растение с глубоким стержневым корнем, жёсткими шероховатыми листьями и крупными жёлтыми цветками-корзинками. Семянки снабжены парашютиком-пушинкой.

12. Распределите названия представителей природных зон по соответствующим столбцам таблицы.

Мхи, клен, ковыль, лемминг, рябина, перекасти –поле, северный олень, барсук, глухарь, богомол, шагреновый кузнечик, камнеломка

	Тундра	Смешанные леса	степи
Растения			
Животные			

13. Распределите данные географические понятия на группы. Каждой группе дай название.

Равнина, озеро, холм, горный хребет, источник, гора, морской залив, бухта, река, плато, минеральный источник, овраг, лагуна

1. _____

2. _____

14. Напишите название природной зоны России. Дайте характеристику климату этой зоны.

Эта зона: Представлена обширными пространствами хвойных лесов, распространённые деревья: ель, сосна, пихта, кедр. Животные: бурый медведь, рысь, лось, белка-летяга.

Природная зона называется _____

Климат _____

15. Ответьте на вопросы по теме «Оборона Тулы»

15.1. В каком месяце началась битва за Тулу в период Великой Отечественной войны?

15.2. Как называли добровольцев, вступивших в народное ополчение для защиты города

15.3. Какое почетное звание было присвоено городу Туле после окончания войны? _____

15.4. Почему оборона Тулы стала важным этапом битвы за Москву

15.5. Расшифруйте аббревиатуру «ТПЗ»

16. Прочитайте описания. Распознайте исторические личности и запиши их имена.

а) Великий реформатор России XVIII века, создатель флота, основатель Петербурга, провёл реформы календаря, алфавита и армии.

б) Полководец, герой Отечественной войны 1812 года, командующий русской армией, победитель Наполеона.

17. Выберите лишний элемент в списке и поясните, почему именно он лишний:

а) Московский Кремль, Исаакиевский собор, Петергоф, Эрмитаж, Кунсткамера.

б) Екатеринбург, Челябинск, Уфа, Владивосток, Тюмень.

в) Новодевичий монастырь, Третьяковская галерея, Большой театр, Останкинская телебашня, Петропавловская крепость.

18. Напишите, что означают дорожные знаки.

Белый треугольник с красной окантовкой и изображением ребёнка	
Голубой круг с велосипедом	
Красный треугольник с изображением скользкого участка дороги	
Белый квадрат с надписью «Стоянка запрещена»	
Красный круг с перечеркнутым мотоциклом	

19. Почему необходимо, чтобы страна обеспечивала себя собственной продукцией сельского хозяйства? Как вы понимаете выражение «продовольственная безопасность страны»?
