



Теория - 15  
 Тв. зад. - 28  
 Тв. проект - 45

Городская олимпиада младших школьников и обучающихся 5-6 классов «Тулячок»  
 2023-2024 учебного года по технологии (мальчики)  
 муниципальный этап

88  
*[Signature]*

5 класс

Шифр участника  
 15

Время выполнения: 45 минут

Количество баллов: 100

(Теория-25 баллов; творческое задание-30 баллов; проект-45 баллов)

1. Что можно считать технологическим процессом?

- а) течение в реках
- б) создание современной техники**
- в) смену времен года

2. Расшифруй анаграммы:


ТИРОПРОЕКНИЕ

КТОРРУКОНСТ

ПРОЕКТИРОВАНИЕ

КОНСТРУКТОР

3. Напиши название изображенных инструментов



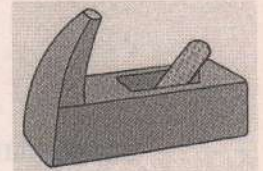
КУВАЛА



Молоток



пила



рубочка

4. Каким способом можно утилизировать древесину?

(приведите не менее двух способов)

отдать на переработку, использовать как дрова.

5. На рисунке изображены три объекта

Какие человеческие нужды они удовлетворяют?



жизнь



быстрое перемещение



непроходимость, засаживание  
полей

Являются ли эти нужды необходимыми для выживания?

жизнь приходится - нужное, но можно выжить и без самолёта и трактора.

6. В каждом деле нужен навык

Я кручу \_\_\_\_\_ вправо

Вырывается из рук

Очень маленький шуруп

Запиши пропущенное слово

отвёртку

7. Из нижеперечисленных объектов и явлений найди, что является изобретением, а что открытием?

Около изобретения поставь знак «И»

около открытия знак «О»

карандаш - и

змея - О

дом - и

чай - О

цветок - О

стол - и

8. В результате развития технологий исчезла одна из перечисленных ниже профессий. Какая? Почему?

а) повар

б) извозчик

в) парикмахер

извозчик. появились современные машины и извозчик стал водителем

9. Употребление каких продуктов необходимо для крепких костей и зубов человека?

морковка, овощи

10. Основной причиной развития науки и техники является стремление человека улучшить свою жизнь. Человек всегда мечтал, чтобы его заменили при выполнении тяжелых, утомительных и опасных работ.

О каком изобретении идет речь?

робот.

Где еще можно использовать данное изобретение?

везде где работает человек.

11. Эскиз детали выполняют карандашом по линейке

- а) да *но не всегда*  
 б) нет

12. Что из перечисленного является пиломатериалом


- а) фанера  
 б) брус  
 в) доска обрезная

### Творческое задание:

С помощью геометрических фигур можно передать образ реальных объектов и предметов.

Вам необходимо креативно (разнообразно, нестандартно) использовать геометрические фигуры для создания изображения **робота**.

**Нарисовать робота, используя геометрические фигуры.**



4  
6  
8  
7  
3